

# 方濟中學 105 學年度第 1 學期高二 (SENIOR2) 地理科第二次段考試題

## 一、單一選擇題 (40 題 每題 2 分 共 80 分)

( ) 1. 影響澳洲人口分布最主要的自然環境因素為何？ (A) 氣候 (B) 地形 (C) 土壤 (D) 水文。

**解答** A

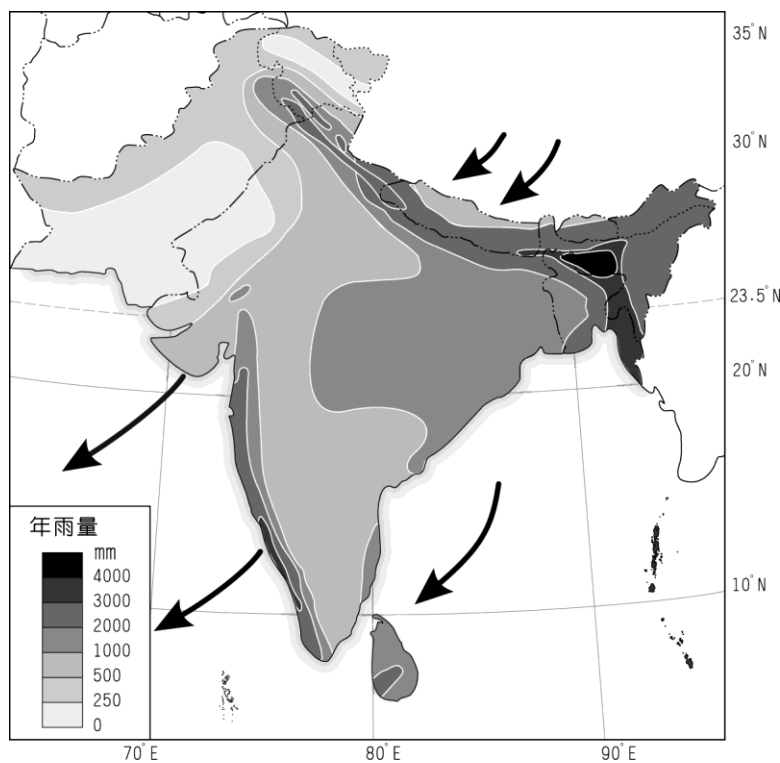
**解析** 澳洲人口集中於東南沿海地區，主要與該地屬夏雨型暖濕氣候有關。

( ) 2. 據 2010 年統計，西亞某國人口將達到 600 萬左右，在過去的 4 年中，共增加了約 190 萬人，外籍僑民人口大量增加加劇了國民與外籍人口比例不平衡的問題，1995 年本國國民人口占總人口的 24.4%，到 2006 年這一比例就下降到了 15.4%，由於外籍男性僑民人數大幅增加，男性所占總人口的比例從 1995 年的 66.6% 上升到了 2006 年的 72.2%。請問此國為哪一國？ (A) 土耳其 (B) 沙烏地阿拉伯 (C) 以色列 (D) 阿拉伯聯合大公國。

**解答** D

**解析** 阿拉伯聯合大公國致力經濟轉型，發展工業、觀光業及轉口貿易，吸引大量外資及外籍人士進入，因此本國人口僅占總人口的 15%。

( ) 3. 圖為印度半島降水與某個季節的盛行風向，請問該季節印度半島的氣候，與觀光業發展之間應具有何種特徵？ (A) 氣候宜人、國際觀光客眾多 (B) 氣候乾寒、遊客止步 (C) 氣候濕熱、觀光業發展不易 (D) 氣候濕冷、國際遊客數量增加。



**解答** A

**解析** 該季節為盛行東北季風的涼季，由於北方的喜馬拉雅山阻擋寒風，故氣候乾燥、涼爽宜人，為國際遊客最佳的觀光時節。

( ) 4. 印度境內雖然語系、種族分歧，但近千年來卻少有嚴重的內戰發生，主要的原因與下列哪一種宗教信仰有關？ (A) 印度教 (B) 佛教 (C) 耆那教 (D) 錫克教。

**解答** A

**解析** 西元前 1500 年雅利安人入侵印度後，為了穩固自身的地位，藉印度教教義中「輪迴轉世」、「業報」等思想，制定了「種姓」的社會階級制度，因為森嚴的階級制度，社會各階層分化鮮明，故國內並不容易引起紛爭，故內戰發生的機率不如其他國家或地區。

( ) 5. 小明在印度旅行時，訪問了各種不同的社會階級，希望能藉由第一手的訪談資料取得相關資訊。下列為小明訪談人士的相關資料，其中以何者最可能為賤民階級？ (A) 甲：我的工作為印度廟宇中的祭司，協助祭拜過程中的儀式 (B) 乙：我在政府部門服務，專門負責產業發展部門的相關事宜 (C) 丙：我的工作相當神聖，協助抬往生者的屍首前去埋葬 (D) 丁：我從事的工作極為辛苦，每天在農田裡種植稻米。

**解答** C

**解析** 賤民階級主要以低下的工作為主。甲為婆羅門；乙為利帝利；丙為賤民；丁為首羅陀或吠舍。

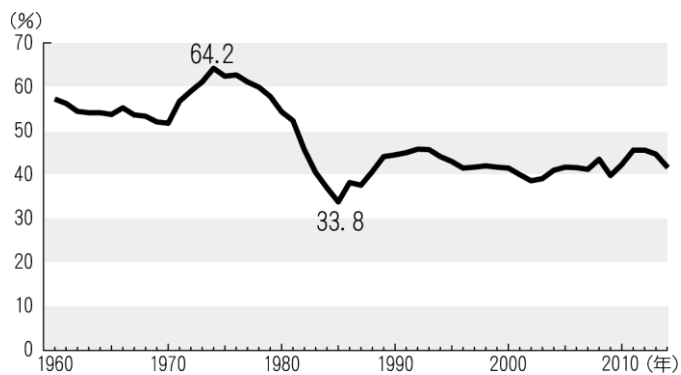
( ) 6. 下列哪些是西亞在世界上具有重要影響力的因素？(甲)重要宗教及文化勝地；(乙)全球 1/2 以上的原油儲藏量；(丙)地理大發現的冒險者；(丁)歐、亞、非三洲間的戰略要區。 (A) 甲乙丙 (B) 甲乙丁 (C) 甲丙丁 (D) 乙丙丁。

**解答** B

**解析** 地理大發現的冒險者是歐洲人。

( ) 7. 圖為西亞地區 1960~2014 年原油輸出占世界原油貿易總量的比率。其中 1980~1988 年因受何種因素影響，導致原油輸出呈現下

降的現象？ (A)伊拉克入侵科威特而受制裁 (B)全球經濟成長停滯 (C)原油產國缺乏資金和勞工 (D)兩伊戰爭破壞油田設備。



**解答** D

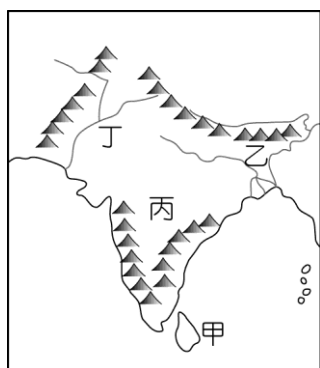
**解析** 1980~1988年因兩伊戰爭，使二國原油輸出量都起伏甚劇。

( ) 8.屬乾燥氣候的西亞，因人口增加、產業發展等因素，水資源匱乏問題日益嚴重。下列哪些問題是因開發水資源而產生？(甲)地下水資源銳減；(乙)能源消耗增加；(丙)增加國家財政支出；(丁)土壤鹽鹼化；(戊)氣候乾燥程度增加。 (A)甲乙丙丁 (B)甲乙丙戊 (C)甲丙丁戊 (D)乙丙丁戊。

**解答** A

**解析** 開發水資源在西亞尚未造成氣候變遷（而中亞則是因湖泊水體縮小，造成乾燥度增加）。

( ) 9.印度半島最早的原住民為達羅毗荼人，後來隨著外來移民的影響而移居他地。請問，達羅毗荼人最早生活的地區主要位於圖中何處？ (A)甲 (B)乙 (C)丙 (D)丁。



**解答** D

**解析** 達羅毗荼人最早生活於西部的印度河流域。

( ) 10.「同時捕獵成功時，放走雌性」、「僅捕殺成年的動物」、「尚未可食用的果實不採摘」……，上述是原住民採集、狩獵的原則，其主要的用意為何？ (A)同情弱者 (B)增加食物來源 (C)達到環境永續發展 (D)提高採集食物的成功率。

**解答** C

**解析** 根據文中所述，主要展現原住民重視環境生態、人地關係和諧的概念。

( ) 11.印度的種姓制度使得當地居民一出生時，已經決定今生的命運，因此對當地社會造成相當大的影響。請問其中造成的負面作用不包括下列何者？ (A)違反人權平等觀念 (B)造成明顯貧富差距 (C)限制個人創新能力 (D)造成社會動盪不安。

**解答** D

**解析** 種姓制度是印度社會安定的力量。

( ) 12.「西亞地區許多國家採用海水淡化方式獲取淡水，如沙烏地阿拉伯是全球海水淡化量最大的國家，科威特每年使用的水資源高達70%源自於海水淡化。」關於海水淡化的描述，下列何者正確？ (A)海水淡化具備環保概念，是一種低汙染的水資源獲取方式 (B)海水淡化屬高耗能的取水方式，在西亞僅產油國採用此方法 (C)近年來改用太陽能進行海水淡化，但仍然產生生態環境問題 (D)海水淡化成本居高不下，讓世界各國卻步。

**解答** C

**解析** (A)海水淡化具有高耗能、且汙染性高的取水方式；(B)包含以色列等非產油國也有部分採海水淡化方式；(C)雖然改太陽能，但過程中仍會產生高溫、高鹽的廢水，造成生態問題；(D)近年來技術改良，海水淡化成本已大幅降低，全球許多國家均有採用，如美國、日本、臺灣等。

( ) 13.英國移民進入澳洲之後，因為不當的開墾，造成澳洲自然環境的浩劫，主與澳洲自然環境的何種特性有關？ (A)植被生長速度過慢 (B)降雨季節集中於夏季 (C)大多屬於乾旱氣候區 (D)土壤的腐質植含量較低。

**解答** C

( ) 14.印度的泰姬瑪哈陵為當地最負盛名的古蹟，為當時的印度國王為了紀念死去的皇后所興建的白色大理石陵墓，近年來泰姬瑪哈陵

外觀有變色情形，可能原因為：(A)印度政府修葺外牆，以發展觀光 (B)乾熱季溫差使得外牆因熱脹冷縮而剝落 (C)酸雨的侵蝕 (D)該區盛行物理風化。

**解答** C

**解析** 因工業發展所造成的酸雨，侵蝕以大理石為建材的泰姬瑪哈陵。

( ) 15.在十九世紀時，遠在南半球的澳洲也成為吸引華人移入的地區之一，就推拉理論而言，澳洲主要具備下列何種拉力？(A)當地氣候條件溫潤適宜居住 (B)地廣人稀而且文化相似性高 (C)開採礦產提供大量工作機會 (D)英國政府提供移民開發資金。

**解答** C

( ) 16.西亞地區氣候乾燥，農業的發展仰賴灌溉，下列西亞各地水資源利用方式哪些是正確的？(甲)科威特—海水淡化；(乙)土耳其—坎井；(丙)沙烏地阿拉伯—鑿井取地下水；(丁)以色列—人造雨；(戊)伊拉克—兩河流域河水。(A)甲乙丙 (B)甲丙戊 (C)丙丁戊 (D)乙丙戊。

**解答** B

**解析** (乙)土耳其—築壩蓄水；(丁)以色列—滴灌。

( ) 17.錫蘭高地紅茶為世界三大紅茶之一，與印度的大吉嶺與阿薩姆紅茶齊名，而其主要產地地位於斯里蘭卡的西南側山麓，主因與下列何者關係最為密切？(A)肥沃的土壤 (B)季風帶來的充沛水汽 (C)洋流帶來的暖濕氣候 (D)豐富的植被林相。

**解答** B

**解析** 斯里蘭卡夏季受到西南季風的影響，西南側山麓降水較豐，在排水良好的山麓、丘陵地帶便成為絕佳的紅茶產地。

( ) 18.澳洲肉牛養殖以大面積草地粗放經營，是澳洲重要出口商品。澳洲肉牛養殖地區的天然植被景觀為何？(A)低矮灌木 (B)疏林莽原 (C)高大雨林 (D)落葉闊葉林。

**解答** B

**解析** 肉牛養殖區位於澳洲熱帶莽原氣候區內，所以植被為疏林莽原。

( ) 19.西亞各國皆十分重視水資源的開發，除了利用海水淡化來取得水源外，也有國家發展出「滴灌」技術，更有效利用水資源，滴灌技術除了可以更有效地使用水源外，更可避免乾燥地區最易發生的哪一項環境問題？(A)土石流 (B)地層下陷 (C)沙漠化 (D)土壤鹽鹼化。

**解答** D

**解析** 滴灌不會提高地下水位，並可防止鹽分經由毛細管現象上升累積於地表，故可避免土壤鹽鹼化的問題。

( ) 20.下列關於紐西蘭畜牧業發展的敘述，哪兩項是正確的？(甲)運輸技術革新；(乙)靠近主要消費市場；(丙)地廣人稀適宜發展畜牧業；(丁)降水量少氣候乾燥。(A)甲乙 (B)丙丁 (C)甲丙 (D)乙丁。

**解答** C

( ) 21.西亞曾因種族的差異而造成歷史上的傷痛，如「以、阿六日戰爭」就是哪兩種不同種族的對抗？(A)猶太人和阿拉伯人 (B)猶太人和波斯人 (C)波斯人和阿拉伯人 (D)猶太人和雅利安人。

**解答** A

**解析** 「以、阿六日戰爭」是以色列和周圍阿拉伯國家的戰爭。

( ) 22.今日印度有超過五成的人口屬於 30 歲以下的青壯年齡層，在先進國家紛紛受到人口老化與少子化問題的衝擊時，未來印度反而擁有極高的「人口紅利」。請問所謂的「人口紅利」，可以下列哪一項指標觀察之？(A)離婚率 (B)社會增加率 (C)死亡率 (D)扶養比。

**解答** D

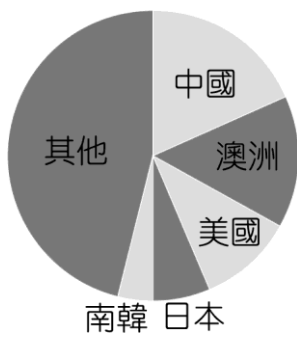
**解析** 人口扶養比〔(老年人口+幼年人口)／壯年人口〕愈小，表示勞動人口負擔的壓力較輕，有充足勞動力，故被稱為「人口紅利」。

( ) 23.有關南亞地區的農業發展，下列哪一個地區最可能出現土壤鹽鹼化？(A)西高止山西部 (B)德干高原東部 (C)恆河平原 (D)印度河平原。

**解答** D

**解析** 印度河平原因氣候乾燥，故有近一半的農地需依賴灌溉，但只灌不排，地下水位上升，加上本區蒸發旺盛，強化毛細現象，容易造成土壤鹽鹼化。

( ) 24.圖為 2014 年某一國家的前五大貿易夥伴所占的貿易比重，據此判斷某國應為下列哪一個國家？(A)越南 (B)印尼 (C)加拿大 (D)紐西蘭。



**解答** D

( ) 25. 印度人口分布多集中於灌溉水利工程發達地區，成為農業及人口聚集的精華區。請問印度聚落發展過程中，注重灌溉工程和該地區何項因素的關係最大？ (A) 土地面積廣大 (B) 地勢高聳崎嶇 (C) 乾濕季節分明 (D) 土壤淋溶旺盛。

**解答** C

**解析** 印度半島降雨特徵：降雨季節分布不均、雨季抵達時間不穩定，若要農產收穫穩定，需透過灌溉系統儲蓄及供應穩定水源。

( ) 26. 表是某國 2013 年的產業結構。該國最可能具有下列哪項區域特性？ (A) 瀕臨波羅的海，軍事戰略地位重要 (B) 祕魯洋流流經，聖嬰現象影響漁業 (C) 屬撒赫爾地區，土壤鹽化問題嚴重 (D) 地處波斯灣旁，海洋運輸系統發達。

產業別	就業比例	主要產業
農業	0.3%	漁業
工業	50.6%	石化、造船修理、海水淡化、水泥、建材、食品加工
服務業	49.1%	貿易 (出口商品：合成油品、化肥；進口商品：食品、建材、汽車與零件、服裝)

**解答** D

**解析** 該國工業類別有石化、海水淡化、造船修理等，貿易出口商品有合成油品，研判其應位於西亞臨海位置的產油國，故選(D)。

( ) 27. 某旅行家曾對某國作了以下幾點記錄：(甲) 國土以高原為主，地震頻仍；(乙) 羊毛與棉花是該國重要的農牧特產；(丙) 居民中穆斯林人口比例高達 98% 以上；(丁) 穆斯林每日五次向南方麥加方向禮拜。此國最可能為下列何者？ (A) 印尼 (B) 葉門 (C) 土耳其 (D) 南蘇丹。

**解答** C

**解析** 根據題目敘述：(甲) 以高原為主、地震頻仍 → 位於板塊接觸帶；(乙) 羊毛與棉花是該國重要農牧特產 → 氣候較為乾燥；(丙) 居民中穆斯林人口比例高達 98% 以上 → 位於西亞—北非文化區；(丁) 穆斯林每日五次向南方麥加方向禮拜 → 位於麥加北方。依上述條件推測，該國應為土耳其。(A) 印尼—位於麥加東南東方，且為熱帶濕潤氣候；(B) 葉門—位於麥加東南方；(D) 南蘇丹—位於麥加西南方，且主要宗教為基督教。

( ) 28. 「該國的人口數量相當龐大，提供了發展所需的充足人力和廣大的市場潛力，而通行的語言更便於與歐美企業往來，但也由於境內沉重的人口壓力及低效率的政商制度，因此成為海外企業投資的主要障礙，目前雖然有許多企業在境內從事資訊技術和業務流程委外產業，但是如何提升技術將是該國能否持續發展的重要關鍵。」請根據上文敘述判斷，最可能為哪個國家的狀況？ (A) 臺灣 (B) 中國 (C) 印度 (D) 泰國。

**解答** C

**解析** 印度人口壓力大，以資訊技術和業務流程相關的服務產業活動為主。

( ) 29. 印度近年來工業發展相當快速，被譽為金磚四國之一。請問，其紡織工業區分布的區位條件以下列何者最為明顯？ (A) 原料、勞工 (B) 資金、動力 (C) 勞工、市場 (D) 動力、市場。

**解答** A

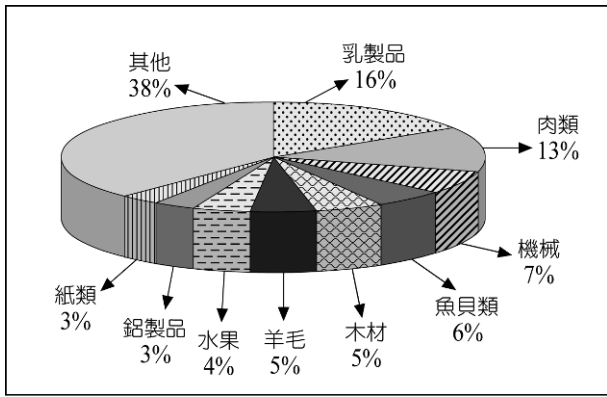
**解析** 紡織為勞工趨向工業，且多分布於盛產黃麻及棉花的地區為主。

( ) 30. 聯合國特派員前往印度巡察當地發展農業的現況，下列為該小組所觀察到的情況，請問何者正確？ (A) 大衛：「隨著印度工商業的快速發展，許多農村人口移入都市就業，生活水準普遍提高。」 (B) 瑪莉：「因印度宗教的影響，降低出生率的各項措施成效不佳，眾多的人口使當地盛產的稻產消耗殆盡。」 (C) 布希：「印度地形平坦，土壤也相當肥沃，可惜生長季短，降雨量不足，因此造成嚴重的糧食供應問題。」 (D) 湯姆：「印度每平方公里的耕地人口數高達 157 人，因此農業活動相當集約，單位勞工生產量大，可惜的是單位面積產量較小，因此造成窮困的生活型態。」

**解答** B

**解析** (A)都市就業率低；(C)農作物生長季長；(D)單位勞工生產量小，而單位面積產量大。

( ) 31.圖是南半球某一國家 1990 年代主要輸出品品的比例圖。該國最可能是： (A)巴西 (B)阿根廷 (C)紐西蘭 (D)澳大利亞。

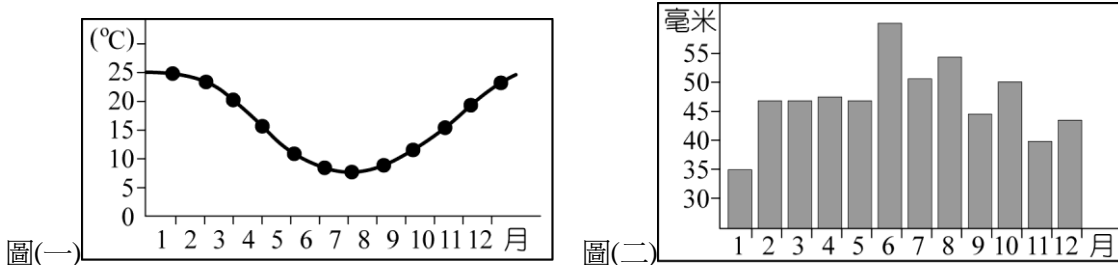


**解答** C

**解析** 圖中所展現的輸出品以乳製品為主，所以較有可能是紐西蘭。澳洲有大量礦產輸出（約 40%），但圖中無，故不能選(D)。

( ) 32.圖(一)與圖(二)以及表格資料分別是某地區的氣候圖和當地某農家的年行事曆，請問這個地區最可能是指下列哪一個地方？ (A)

加拿大草原三省 (B)非洲的馬達加斯加 (C)阿根廷的彭巴草原 (D)澳洲的墨累河盆地。



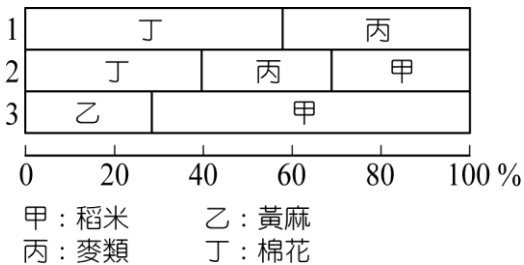
月份	1月	2月	3月	4月	5月	6月	7月	8月	9月	10月	11月	12月
農	犁田	→	播種	→	→	生長	→	→	→	→	收割	→
牧	放牧	→	→	→	配種	→	→	剪毛	→	接生	放牧	→

**解答** D

**解析** 由氣候圖可推知為南半球的地中海型氣候，而由農家的年中行事曆可推知為混合農業，故答案應為澳洲的墨累河盆地下游。

( ) 33.圖為印度大平原 1 至 3 區農作物種植比例圖，請問下列哪一項最能顯示此三區空間的關係？ (A)由東向西的順序 1→2→3 (B)

由東向西的順序 3→2→1 (C)由南向北的順序 1→2→3 (D)由東向西的順序 2→3→1。



**解答** B

**解析** 從水稻種植比例高到低，可知由東到西為 3→2→1。

( ) 34.來自臺灣的農耕隊到印度半島進行農業技術交流，希望藉由臺灣發展的經驗，來幫助該地區發展水稻農業，以解決該地區的糧食

問題。請問，若根據水稻生長的氣候條件加以判斷，下列哪個地區最不適合發展水稻農業？ (A)德干高原東側沿海平原 (B)恆河中下游沖積平原 (C)印度河下游三角洲 (D)孟加拉灣三角洲。

**解答** C

**解析** 適於水稻生長的氣候條件為暖濕，印度河下游三角洲氣候乾燥，不適合栽種水稻。

( ) 35.一國主要的貿易對象，呈現了國家間經濟合作依賴的緊密關係，進出口商品種類則反映了該國原料資源的豐缺或經濟發展程度的

高低。表(一)為某國 2007 年主要出口貿易對象及出口額，表(二)為該國主要進出口商品。該國最可能為下列哪個國家？ (A)巴西 (B)澳洲 (C)南非 (D)印尼。

表(一)

表(二)

貿易國	出口額 (百萬美元)	%	項目	種類
日本	31,898	19.0	主要出口商品	煤、鐵、鋁、金、肉類、羊毛、小麥、機械與運輸設備
中國	23,803	14.1		
南韓	13,463	8.0		
美國	10,024	6.0		
紐西蘭	9,478	5.6	主要進口商品	電腦與辦公設備、通信設備、原油與石化產品
印度	9,289	5.5		
英國	7,012	4.2		

**解答** B

**解析** 由該表可看出該國主要的貿易對象多為東亞國家，而出口產品又以礦產及畜牧產品為主，所以應為澳洲。

- ( ) 36. 澳洲有多種大異於其他地區的珍稀原生動植物，是其發展觀光事業的基礎之一。該國能擁有此種特殊資源的主要原因為何？ (A) 長期遠離其他陸塊，物種獨立演化 (B) 中、西部沙漠廣大，阻隔物種接觸 (C) 原住民不以採集狩獵為生 (D) 地廣人稀，人類對自然界的干擾較少。

**解答** A

- ( ) 37. 印度在降水的時間與空間分布上並不均等，導致農民自古必須利用眾多的水利技術來因應，下列哪四項是印度看得到的水利設施？ (甲)水井；(乙)溝圳；(丙)坎井；(丁)水塘；(戊)水壩。 (A)甲乙丙丁 (B)甲乙丁戊 (C)甲丙丁戊 (D)乙丙丁戊。

**解答** B

**解析** (丙)坎井為中國新疆與西亞乾燥地區取用融化雪水下滲的地下水，並由暗渠、豎井與蓄水池等所組成的水利設施。

- ( ) 38. 蘇門答臘北部於 2004 年年底發生了規模 9 的大地震，所引發的海嘯使東南亞與南亞多國嚴重受創，甚至某國的首都也被海水淹沒大半。該國是指下列哪一國家？ (A) 印尼 (B) 孟加拉 (C) 斯里蘭卡 (D) 馬爾地夫。

**解答** D

**解析** 由於馬爾地夫為珊瑚礁島所構成，地勢低平而易為高漲的海水所淹沒。

- ( ) 39. 世界五大宗教均發源於西、南亞，其中哪一個宗教在其發源地目前信徒極少，居民多改信其他宗教？ (A) 佛教 (B) 猶太教 (C) 印度教 (D) 伊斯蘭教。

**解答** A

**解析** 佛教發源於印度半島，但今日當地佛教徒卻相當稀少，主要流傳於東亞地區。

- ( ) 40. 一位同學想在暑假期間去海外遊學，他希望能利用這機會學習英語、認識當地的原住民文化，並體驗獨特的冰河地形和活火山景觀。下列哪個地區是該同學的最佳選擇？ (A) 夏威夷 (B) 菲律賓 (C) 紐西蘭 (D) 愛爾蘭。 **解答** C

**解析** 「英語國家、有原住民文化，冰河地形和活火山景觀」符合上述條件的為「活的地形教室——紐西蘭」，該國位於板塊交會處，北島能看到活火山地形，有原住民文化（毛利人），南島有山岳冰河地形、原住民文化（毛利人）。夏威夷與菲律賓並無冰河地形，愛爾蘭則無火山景觀。

## 二、非選擇題 (10 小題 每小題 2 分 共 20 分)

1. 「這是一個山中佛國，居民因宗教信仰的虔誠而快樂知足，雖然工業並不發達，卻曾名列亞洲國家的幸福指數 (GNH) 第一名！」文中所述應為南亞的哪一個國家？①

**解答** 不丹

**解析** 由於虔誠的佛教信仰，居民多數能夠安居樂業的不丹，成為亞洲各國中「國民幸福總值 (Gross National Happiness, GNH)」排名的第一位，在全球排行榜上亦能與北歐、紐澳等先進國家並駕齊驅。而 GNH 的四大基本元素是平等穩固的社會經濟建設、文化價值的保護和發揚、自然環境的保護以及高效管理制度的建立。

2. 波斯灣沿岸某國的一個小邦，在 50 多年前，它只不過是一個靠採珍珠為生的小港口，1966 年在海底開採石油後，國民所得已達三萬七千元美金，國民生產毛額逐年上升，使這個沙漠小邦已成為西亞金融、航運和轉口貿易重地。近年更致力推廣觀光，其國內的人工棕櫚島、室內滑雪場、知名帆船飯店和世界第一高樓與興建中的世界最大主題樂園，帶動國內第三級產業的發展，吸引無數西亞、南亞移民人口，這裡已成為財富和夢想結合的天堂。請問：

(1) 請寫出文中的國家名稱。②

(2) 此國地控哪個海峽，是石油運輸必經之地？③

(3)此地區的性別比數值高還是低？④

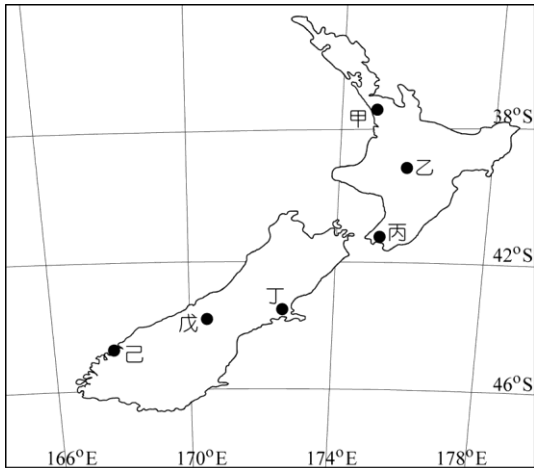
**解答** (1)阿拉伯聯合大公國 (2)荷莫茲海峽;(3)高

**解析** (1)文中七星級帆船飯店位於阿拉伯聯合大公國的杜拜。

(2)波斯灣至阿拉伯海的海峽為荷莫茲海峽。

(3)外來人口以男性居多，因此性別比高。

3.圖為紐西蘭的簡圖，圖中甲～己代表不同地點，請根據該圖回答下列問題：



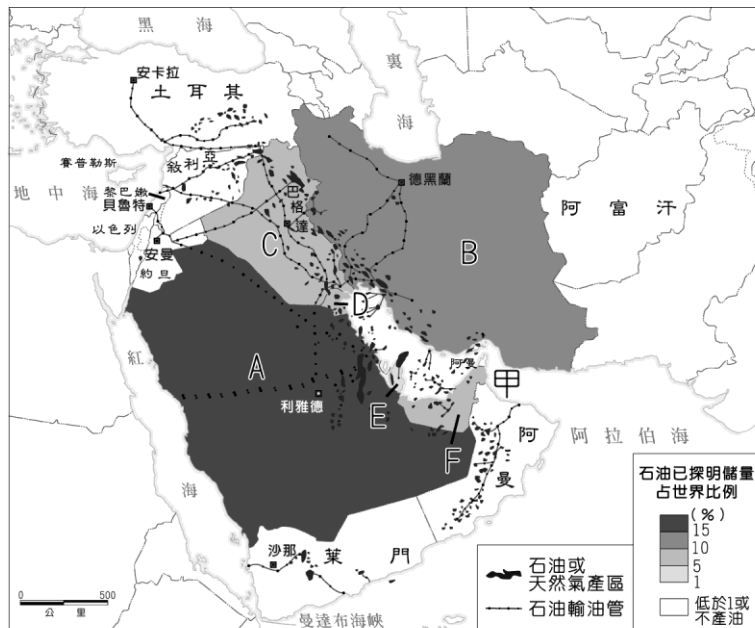
(1)小花到紐西蘭旅行，停留於甲城市時，於當地時間晚上 8 點打電話回臺灣，此時臺北的時間應為幾點鐘？⑤

(2)分隔南島與北島的海峽名稱為何？⑥

**解答** (1)下午 4 點

(2)庫克海峽

4.圖為西亞石油分布圖，請問：



(1)圖中 A、B、C、D、E、F 六個國家，為對抗西方石油公司，於 1960 年成立某組織，逐步將該區能源收歸國有，並控制該能源市場價格，請問此組織的名稱為何？⑦

(2)西亞的某國為避免過度依賴能源，近年來致力發展觀光業、工業及轉口貿易，利用良好的地理位置以填海造陸的方式創造人工島，請問此國為圖中的哪一個國家（請寫出代號和國名）？⑧

**解答** (1)石油輸出國家組織（OPEC）;(2)F，阿拉伯聯合大公國;

**解析** (1)此六國為沙烏地阿拉伯、伊朗、伊拉克、科威特、卡達、阿拉伯聯合大公國，成立石油輸出國家組織。

(2)阿拉伯聯合大公國致力發展觀光業，投資打造海上棕櫚島及度假酒店等設施。

5.圖為紐西蘭貿易狀況之漫畫，說明該國遭逢的困境以及貿易的轉變。請問：



(1) 甲最可能是指哪一個區域組織？⑨

(2) 乙最可能是指哪一個地區？⑩

**解答** (1) 歐盟; (2) 亞洲